



SERVICES CULTURE ÉDITIONS  
RESSOURCES POUR  
L'ÉDUCATION NATIONALE

**Ce document a été numérisé par le CRDP de Clermont-Ferrand  
pour la  
Base Nationale des Sujets d'Examens de l'enseignement professionnel**

Ce fichier numérique ne peut être reproduit, représenté, adapté ou traduit sans autorisation.

**EP3 Partie en salle**

**NOTA:** Pour les besoins de l'exercice, les vues ont été coupées

**GLACIS**

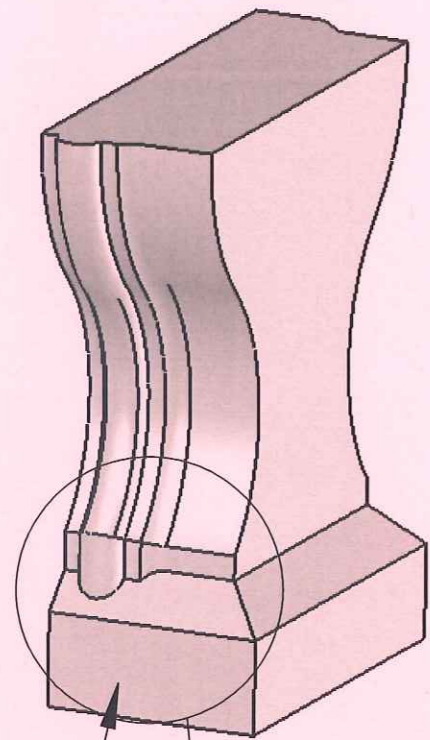
**Vue de Droite**

**Vue de Face**

**CORRIGE**

**Coupe A-A**

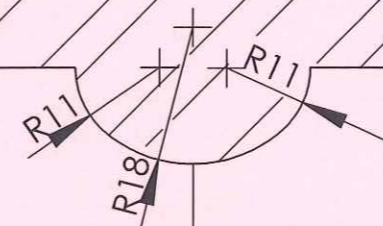

**VRAIE GRANDEUR DU GLACIS**



Zone dans laquelle le travail demandé se situe

Face

35°



Base Nationale des Sujets d'Examen de l'enseignement professionnel  
Réseau SCEREN

Sujet National		Session 2012		SUJET	
CAP Tailleur de pierre – Marbrier du bâtiment et de la décoration.			Code examen:		Tirages:
Épreuve: EP3- UP3 Réalisation de tracé professionnel			Durée: 4h30	Coef.: 4	Page 1/1
CORRIGE					